

 ALCALDÍA DE SANTIAGO DE CALI SECRETARÍA DE EDUCACIÓN	 TALLER DE AREA			INSTITUCION EDUCATIVA JUAN DE AMPUDIA 
	CÓDIGO	VERSIÓN	FECHA DE APROBACION	PAGINA
	FO-GA-007	02	09-02-2016	1 DE 2
AREA	FECHA	GRADO	DOCENTE	
Matemática	12/04/2021	1-1	Carolina Latorre Echeverry.	

Desempeño: Identifica la decena, la familia del 10 y lo ubica en el ábaco y la tabla posicional

Tema: Taller temas vistos en clase (jueves 15 de Abril)

Taller

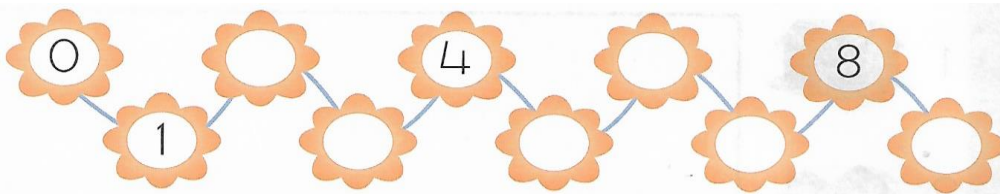
1. Escribe los elementos que pertenecen a cada conjunto




F es el conjunto de vocales

G es el conjunto de los números menores que 9

2. Escribe los números que faltan



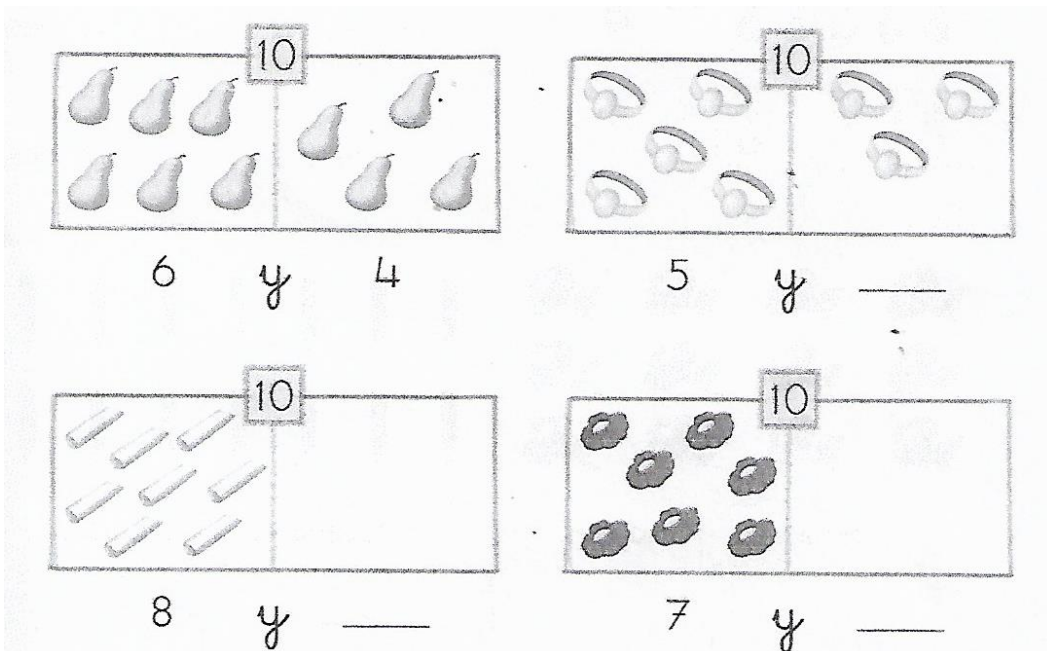
3. Completa



4. Escribe > ó <

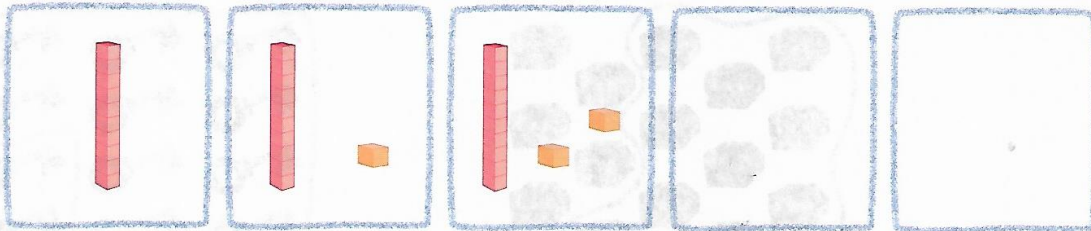
8 _____ 5 4 _____ 2 3 _____ 1 2 _____ 9
 2 _____ 7 3 _____ 0 9 _____ 4 4 _____ 8

5. Dibuja y completa una decena

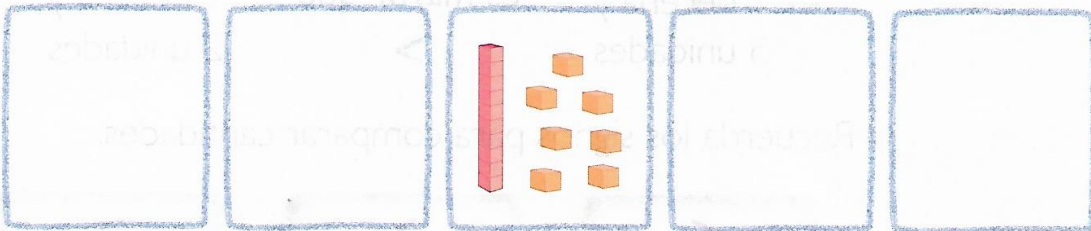


 ALCALDÍA DE SANTIAGO DE CALI SECRETARÍA DE EDUCACIÓN	 TALLER DE AREA			INSTITUCION EDUCATIVA JUAN DE AMPUDIA 
	CÓDIGO	VERSIÓN	FECHA DE APROBACION	PAGINA
	FO-GA-007	02	09-02-2016	2 DE 2
AREA	FECHA	GRADO	DOCENTE	
Matemática	12/04/2021	1-1	Carolina Latorre Echeverry.	

6. Lee y completa



10 diez 11 once 12 doce 13 trece 14 catorce



15 quince 16 dieciséis 17 diecisiete 18 dieciocho 19 diecinueve

7. Escoge el número y completa

13 12

16 18

_____ es menor que _____ _____ es mayor que _____

8. Escribe > ó <

4 _____ 14 7 _____ 17 13 _____ 14
 6 _____ 8 12 _____ 11 18 _____ 19

9. Escribe el resultado de las sumas

$\begin{array}{r} + 5 \\ 0 \\ \hline \end{array}$	$\begin{array}{r} + 8 \\ 1 \\ \hline \end{array}$	$\begin{array}{r} + 4 \\ 4 \\ \hline \end{array}$	$\begin{array}{r} 3 \\ + 3 \\ 3 \\ \hline \end{array}$	$\begin{array}{r} 4 \\ + 2 \\ 1 \\ \hline \end{array}$	$\begin{array}{r} 5 \\ + 2 \\ 2 \\ \hline \end{array}$
<input type="text"/>	<input type="text"/>	<input type="text"/>	<input type="text"/>	<input type="text"/>	<input type="text"/>

10. Representa en el ábaco y la tabla posicional los siguientes números

5 - 14 - 7 - 10

d u	d u	d u	d u
□ □	□ □	□ □	□ □