

 ALCALDÍA DE SANTIAGO DE CALI SECRETARÍA DE EDUCACIÓN	 TALLER DE AREA			INSTITUCION EDUCATIVA JUAN DE AMPUDIA 
	CÓDIGO	VERSIÓN	FECHA DE APROBACION	PAGINA
	FO-GA-007	02	09-02-2016	1 DE 3
AREA	FECHA	GRADO	DOCENTE	
Matemática	23/03/2021	1-1	Carolina Latorre Echeverry.	

Desempeño: Ubica las unidades y decenas en el ábaco y la tabla posicional

Tema: El ábaco y la tabla posicional (martes 23 de Marzo)

Guía de aprendizaje

¿Cuántos objetos hay? _____ Ahora vamos a representar esta cantidad en el ábaco y la tabla posicional

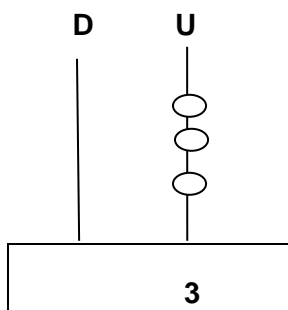



Tabla posicional

D	U
	3

1. ¿Cuántos dulces hay? _____ Representa la cantidad en el ábaco

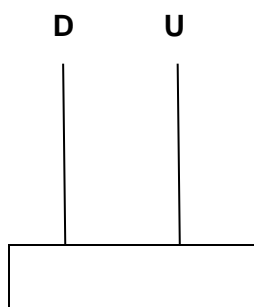


Tabla posicional

D	U

2. ¿Cuántas flores hay? _____ Representa la cantidad en el ábaco

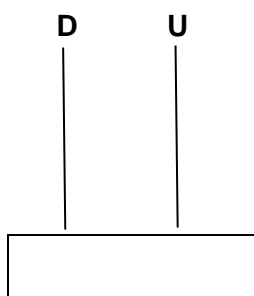



Tabla posicional

D	U

3. ¿Cuántos bloques hay? _____ Representa la cantidad en el ábaco y la tabla posicional

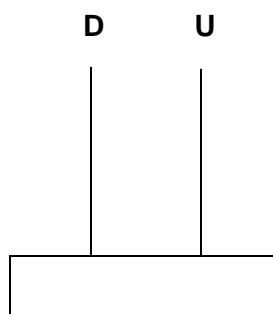



Tabla posicional

D	U

 ALCALDÍA DE SANTIAGO DE CALI SECRETARÍA DE EDUCACIÓN	 TALLER DE AREA				INSTITUCION EDUCATIVA JUAN DE AMPUDIA 
	CÓDIGO	VERSIÓN	FECHA DE APROBACION	PAGINA	
	FO-GA-007	02	09-02-2016	2 DE 3	
AREA	FECHA	GRADO	DOCENTE		
Matemática	23/03/2021	1-1	Carolina Latorre Echeverry.		

Desempeño: Resuelve problemas con sumas de una cifra

Tema: Resolución de problemas (martes 23 de marzo)

1. En un árbol se encuentran 7 ardillas y 2 micos. ¿Cuántos animales hay en el árbol?

OPERACIÓN	RESPUESTA
$\begin{array}{r} 7 \\ + 2 \\ \hline \end{array}$	Hay en total _____ animales en el árbol

2. Lina tiene en su armario de juguetes 3 muñecas y 4 osos. ¿Cuántos juguetes tiene Lina en total?



OPERACIÓN	RESPUESTA
$\begin{array}{r} \square \\ + \square \\ \hline \square \end{array}$	Lina tiene en total _____ Juguetes

3. Jorge tenía 5 carritos. Su mamá le regalo 3 carritos más. ¿Cuántos carritos reunió Jorge en total?

OPERACIÓN	RESPUESTA
	Reunió _____ carritos en total

4. Juan tiene 4 globos y Carolina tiene 2. ¿Cuántos globos reúnen en total entre los dos?

OPERACIÓN	RESPUESTA
	Reúnen en total _____ globos

 ALCALDÍA DE SANTIAGO DE CALI SECRETARÍA DE EDUCACIÓN	 TALLER DE AREA			INSTITUCION EDUCATIVA JUAN DE AMPUDIA 
	CÓDIGO	VERSIÓN	FECHA DE APROBACION	PAGINA
	FO-GA-007	02	09-02-2016	3 DE 3
AREA	FECHA	GRADO	DOCENTE	
Matemática	23/03/2021	1-1	Carolina Latorre Echeverry.	

Desempeño: Reconoce y agrupa decenas


Tema: La decena (viernes 26 de marzo)

Guía de aprendizaje

Ejemplo:

¡Adivina, adivinador!

Cinco gatos en un cuarto, cada gato en un cajón, cada gato ve otro gato,
 ¿Cuántos gatos son?



10 elementos equivalen a una decena
 10 elementos = 1 Decena

$$10 = 1 D$$


Peque! Mira tus manos...

¿Cuántos dedos tienes? _____

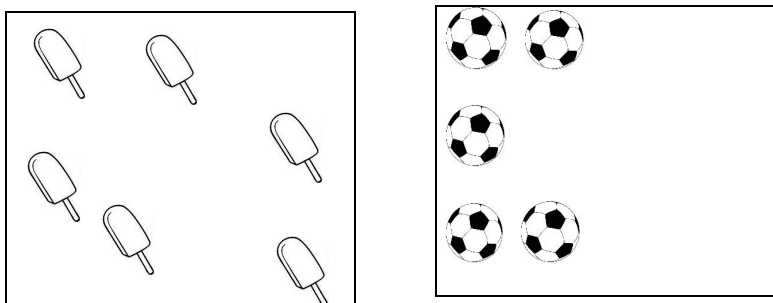
Muy bien! Ya descubriste que tienes una decena en tus manos

AGRUPEMOS DECENAS

1. Agrupa una decena y luego colorea los elementos que agrupaste



2. Dibuja para completar una decena en cada grupo



3. Realiza un conjunto que tenga una decena de elementos